





# Oefentoets I – Memo

Totaal: 25 punte

Tel die prente en skryf die getalsimbole en getalname neer.

(8)

	Getalsimbool	Getalname
	7	seven
	6	six
	8	eight
	10	ten

Doen die volgende optelsomme.

(3)

$$8 + 6 = 14$$

ooooooooo oooooo

$$12 + 5 = 17$$

ooooooooooooooooo oooooo

$$9 + 7 = 16$$

oooooooooo ooooooo

Verdubbel:

$$3 \text{ is } 6$$

$$3 + 3 = 6$$

ooo ooo

$$5 \text{ is } 10$$

$$5 + 5 = 10$$

ooooo oooooo

$$7 \text{ is } 14$$

Geen punte kan toegeken word as leerder nie gewys het hoe hy/sy by die antwoord uitgekome het nie. Kolle of lyne moet geteken word. As daar geen kolle of lyne is nie, is die antwoord verkeerd.

Geen punte kan toegeken word as leerder nie gewys het hoe hy/sy by die antwoord uitgekome het nie. Kolle of lyne moet geteken word. As daar geen kolle of lyne is nie, is die antwoord verkeerd.

(3)

$7 + 7 = 14$

oooooooo oooooooooo

'n Boer het 4 koeie, 2 skape en 1 vark. Hoeveel diere het hy altesaam?

(3)

Drie punte in totaal: een punt vir die korrekte som; een punt om te wys hoe jy by die antwoord uitgekóm het – kolle of prente; een punt vir die korrekte antwoord wat die regte woord MOET insluit)

$4 + 2 + 1 = 7 \text{ diere}$

oooo oo o

Bou die volgende - kombinasies

(6)

$2 + 3 = 5$

$1 + 4 = 5$

o o o o o

o o o o o

$4 + 2 = 6$

$1 + 5 = 6$

o o o o o o

o o o o o o

$5 + 2 = 7$

$3 + 4 = 7$

o o o o o o o

o o o o o o o

Geen punte kan toegeken word as leerder nie gewys het hoe hy/sy by die antwoord uitgekóm het nie. Kolle of lyne moet geteken word. As daar geen kolle of lyne is nie, is die antwoord verkeerd.

Tel vorentoe en terug van 50 tot 1

(2)

50	49	48	47	46	45	44	43	42	41
40	39	38	37	36	35	34	33	32	31
30	29	28	27	26	25	24	23	22	21
20	19	18	17	16	15	14	13	12	11
10	9	8	7	6	5	4	3	2	1

Totaal van twee punte: een punt as die rooi getalle korrek is; een punt as die blou getalle korrek is.