





Tel die prente en skryf die getalsimbole en getalname neer.

(8)

	Getalsimbool	Getalname
		
		
		
		

Doen die volgende optelsomme.

(3)

$$8 + 6 = _ _$$

$$12 + 5 = _ _ _$$

$$9 + 7 = _ _$$

Verdubbel:

(3)

$$3 \text{ is } _ _ _$$

$$5 \text{ is } _ _ _$$

7 is ___

'n Boer het 4 koeie, 2 skape en 1 vark. Hoeveel diere het hy altesaam? (3)

Bou die volgende - kombinasies (6)

$2 + _ = 5$ $1 + _ = 5$

o o o o o o o o o o

$4 + _ = 6$ $1 + _ = 6$

o o o o o o o o o o o o

$5 + _ = 7$ $3 + _ = 7$

o o o o o o o o o o o o o o

Tel vorentoe en terug van 50 tot 1 (2)

50			47			44		42	
	39			36					31
30		28					23		
			17		15			12	
	9			6		4			1