


Oefentoets 5

Totaal: 40 Punte

Brei die patrone uit.

(4)



216 21_____

5274 52_____




Lees die vorms se name en teken die regte vorm.

(4)

vierkant	sirkel	reghoek	driehoek

Omkring die regte naam van die vorm, asook hoe hulle beweeg.

(6)

	boks silinder bal	rol gly
	boks silinder bal	rol gly
	boks silinder bal	rol gly

Teken die volgende voorwerpe volgens die instruksies.



(6)

1. 'n Kind op die glyplank.
2. 'n Kat regs van die boom.
3. 'n Hond links van die swaai.
4. 'n Speelding binne-in die sandput.
5. 'n Bal tussen die swaai en glyplank.
6. 'n Voël bo die boom.



Gebruik die woorde om te skryf hoe vol die houers is.

(3)

vol	leeg	halfvol
		

Omkring die regte word om elke glas te beskryf.

(4)



A

B

C

Glas B is

voller	leër
--------	------

as glas C.

Glas B is

voller	leër
--------	------

as glas A.

Glas C is die _____.

volste	leegste
--------	---------

Glas A is die _____.


volste	leegste
--------	---------

Volg die instruksies vir die houer aan die regterkant.

(3)



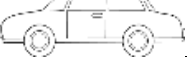


		
Maak dit leër.	Maak dit gelyk.	Maak dit voller.

Kleur in: karre - blou, busse - rooi, bote - geel, fietse - groen, trekkers - bruin.



Vul in hoeveel van elke soort voertuig die kinders sien.

(5)

	1	2	3	4	5	6	7	8	9	10
										
										
										
										
										

Omkring die regte antwoorde.

(5)

Watter voertuig is die meeste?	  
Watter voertuig is die minste?	  
Watter voertuie is gelyk aan mekaar?	   
Daar is vier van watter voertuig?	  
Watter voertuig is twee minder as die karre?	  